



السؤال الاول: اجد ناتج مايلي :

$$\boxed{\text{Red}} = 6 + 13 \bullet$$

$$\boxed{\text{Blue}} = 9 + 7 \bullet$$

$$\boxed{\text{Green}} = 5 + 12 \bullet$$

$$\boxed{\text{Light Green}} = 10 + 4 \bullet$$

$$\boxed{\text{Orange}} = 9 + 9 \bullet$$

السؤال الثاني

مع احمد 14 كتاب اعطاه اخوه خمسة كتب اخرى ، كم عدد الكتب مع احمد ؟

$$\boxed{\text{Yellow}} \bullet \text{ ضعف العدد } 2 \text{ هو}$$

$$\boxed{\text{Dark Blue}} \bullet \text{ ضعف العدد } 5 \text{ هو}$$

$$\boxed{\text{Light Green}} \bullet \text{ ضعف العدد } 4 \text{ هو}$$

السؤال الثالث : اجد ناتج الجمع مستعملا الضعف مضاف اليه واحد



$$\text{---} + \text{---} = \text{---}$$

السؤال الرابع : اكمل جمل الجمع التالية

$$10 = 6 + \dots \bullet$$

$$10 = \dots + 7 \bullet$$

$$10 = \dots + 5 \bullet$$

$$10 = \dots + 9 \bullet$$

$$\dots = \dots + 10 = 5 + 6 \bullet$$

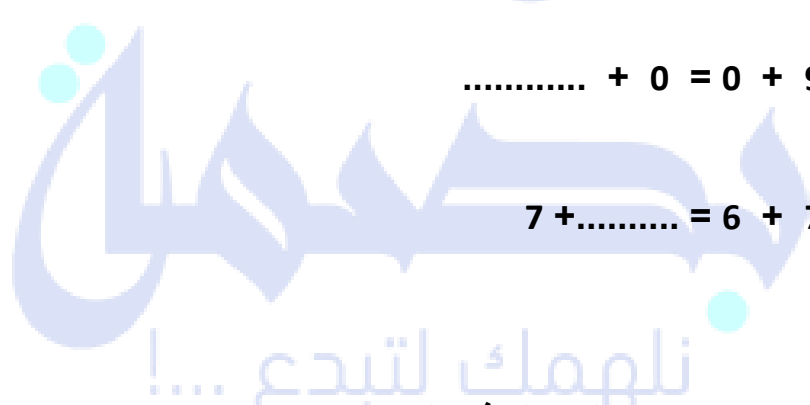
$$\dots = 10 + \dots = 5 + 9 \bullet$$

$$\dots = \dots + 10 = 6 + 8 \bullet$$

$$\dots + 8 = 8 + 5 \bullet$$

$$\dots + 0 = 0 + 9 \bullet$$

$$7 + \dots = 6 + 7 \bullet$$




السؤال الخامس : عند جمع عدد الى صفر فإن العدد الناتج هو


السؤال السادس: اوجد ناتج الجمع فيما يلي :


$$\square = 3 + 8 + 7 \bullet$$

$$\square = 6 + 5 + 4 \bullet$$

$$\square = \dots \bullet$$

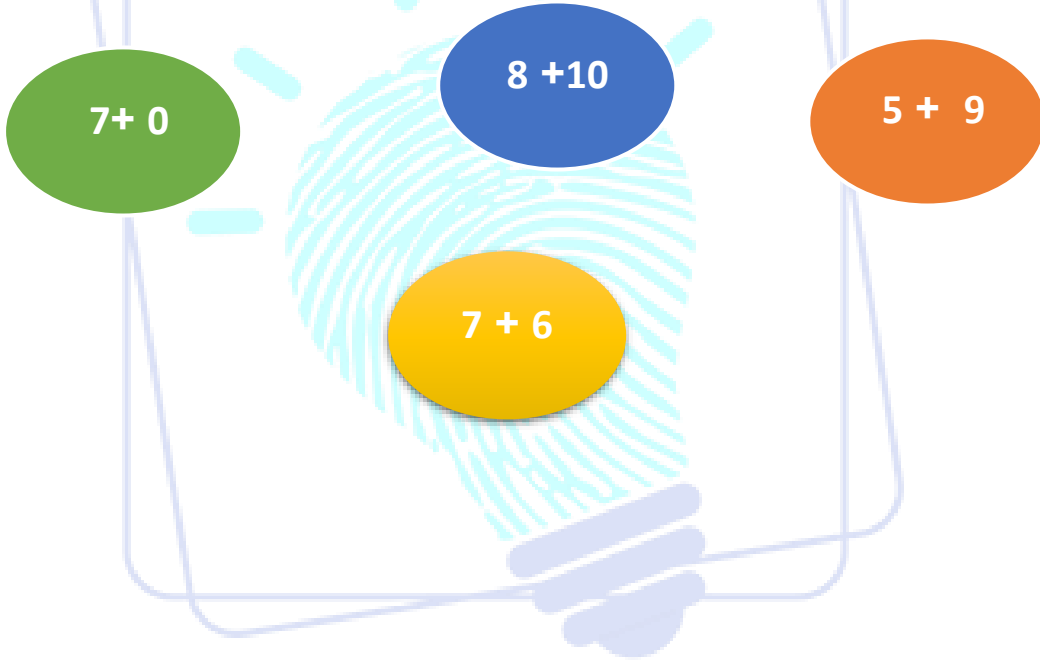
 = 5 + 2 + 5 •

 = 6 + 1 + 9 •

 = 3 + 7 + 3 •

السؤال السابع :

اي من العمليات التالية يمكن ايجادها باستعمال الضعف مضافا اليه العدد 1



بصمة
نلهمك لتبدع ...!