



## الاجابات نهاية الصفحة

السؤال الاول: اكتب الاعداد التالية المكتوبة بالكلمات بالارقام

- اربعة وستون 
- اثنان وثمانون 
- خمسة عشر 
- سبعة وتسعون 

السؤال الثاني : أضع دائرة حول رمز الاجابة الصحيحة

1. القيمة المنزلية لرقم العشرات في العدد 89

- 80
- 8
- 9

2. عدد الاحاد في العدد 90 هو .....

- 0
- 9
- 90

3. كم عشرة في العدد 76

- 6
- 7
- 70

4. اكتب العدد 54 بالصورة التحليلية

- $5 + 40$
- $40 + 50$

4+ 50 •

5. اي من الاعداد التالية يمثل عدد فردي


10 •

32 •

13 •

السؤال الثالث : مع خالد 6 علب حلوى في كل علبة 10 حبات بسكويت كم حبة بسكويت مع خالد ؟

السؤال الرابع : اكتب عدد الاشياء التي امامك



لدينا .....برتقالة



لدينا .....عصفور

السؤال الخامس : اي من الاشكال التالية بداخله عدد زوجي

53

45

48

92



## الاجابات نهية الصفحة

السؤال الاول: اكتب الاعداد التالية المكتوبة بالكلمات بالارقام

64

• اربعة وستون

82

• اثنان وثمانون

15

• خمسة عشر

77

• سبعة وتسعون

السؤال الثاني : أضع دائرة حول رمز الاجابة الصحيحة

6. القيمة المنزلية لرقم العشرات في العدد 89

• 80

• 8

• 9

7. عدد الاحاد في العدد 90 هو .....

• 0

• 9

• 90

8. كم عشرة في العدد 76

• 6

• 7

• 70

9. اكتب العدد 54 بالصورة التحليلية

• 5+ 40

• 40+ 50

• 4+ 50


10. اي من الاعداد التالية يمثل عدد فردي

- 10 •
- 32 •
- 13 •

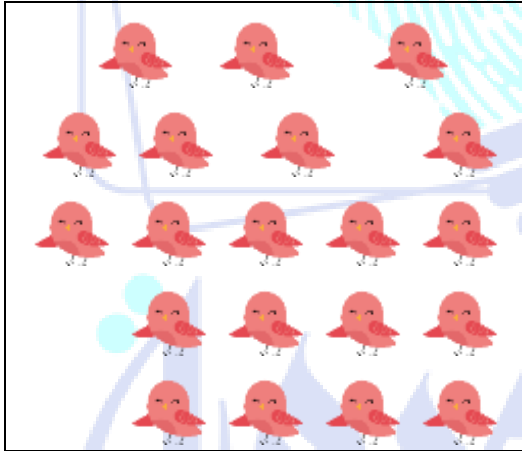
السؤال الثالث : مع خالد 6 علب حلوى في كل علبة 10 حبات بسكويت كم حبة بسكويت مع خالد ؟

60 حبة

السؤال الرابع : اكتب عدد الاشياء التي امامك



لدينا .....16.....برتقالة



لدينا .....20.....عصفور

السؤال الخامس : اي من الاشكال التالية بداخله عدد زوجي

نلهمك لتبدع ...!

92

48